

Gesucht: Raumbild eines Quaders

(in Isometrie: Vorderansicht von rechts)

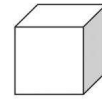
II+
SB 101

Grundkörper 80 x 80 x 70

Stufe 40 x 30 x 70, links unten

Stufe 40 x 80 x 20, rechts vorne

Nut 80 x 20 x 40, oben, 20 von vorne



Gesucht: Raumbild eines Quaders

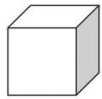
(in Isometrie: Vorderansicht von links)

III
SB 103

Grundkörper 70 x 90 x 60

Abschrägung 70 x 60 x 50, vorne oben

Teilstufe 20 x 40 x 40, vorne oben rechts



Gesucht: Raumbild eines Quaders

(in Isometrie: Vorderansicht von links)

IV
SB 102

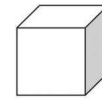
Grundkörper 60 x 40 x 80

Teildurchbruch 40 x 30 x 60, oben mittig

Nut 60 x 10 x 60, oben mittig

Durchbruch 20 x 20 x 80, vorne mittig, 10 von unten

Abschrägung 30 x 40 x 30, vorne rechts



Gesucht: Raumbild eines Quaders

(in Isometrie: Vorderansicht von rechts)

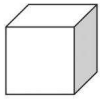
IV
SB 104

Grundkörper 80 x 60 x 90

Nut 60 x 40 x 90, unten mittig

Durchbruch 60 x 60 x 60, oben mittig

V-Nut 80 x 35 x 60, unten mittig



Gesucht: Raumbild eines Quaders

(in Isometrie: Vorderansicht von links)

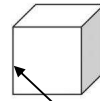
III

SB 105

Grundkörper 90 x 120 x 100

Stufe 60 x 120 x 40, vorne rechts

Nut 90 x 80 x 80, vorne, 20 von unten



Gesucht: Raumbild eines Quaders

(in Isometrie: Vorderansicht von links)

I

SB 107

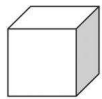
Grundkörper 60 x 80 x 60

Stufe 40 x 80 x 20, vorne links



Übung 2

Kippe den Körper im Kopf nach vorne und notiere die neuen Maße. Zeichne den neuen Körper.



Gesucht: Raumbild eines Quaders

(in Isometrie: Vorderansicht von links)

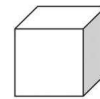
III

SB 106

Grundkörper 100 x 100 x 80

Nut 100 x 80 x 20, vorne, 10 von oben

Abschrägung 60 x 60 x 80, oben rechts



Gesucht: Raumbild eines Quaders

(in Isometrie: Vorderansicht von links)

I

SB 108

Grundkörper 50 x 25 x 20

Stufe 30 x 10 x 20, rechts oben



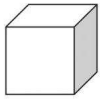
Übung 2

Drehe den Körper im Kopf nach rechts und notiere die neuen Maße. Zeichne den neuen Körper.



Übung 3

Kippe den Körper im Kopf nach hinten und notiere die neuen Maße. Zeichne den neuen Körper.



Gesucht: Raumbild eines Quaders

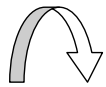
(in Isometrie: Vorderansicht von links)

I

SB 109

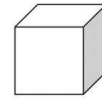
Grundkörper 60 x 40 x 80

Stufe 20 x 30 x 80, links unten



Übung 2

Kippe den Körper im Kopf nach hinten und notiere die neuen Maße. Zeichne den neuen Körper.



Gesucht: Raumbild eines Quaders

(in Isometrie: Vorderansicht von links)

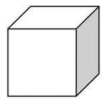
III+

SB 111

Grundkörper 70 x 90 x 70

Teilnut 40 x 70 x 60, vorne oben mittig

Teildurchbruch 60 x 30 x 50, rechts, 20 von unten, 10 von hinten



Gesucht: Raumbild eines Quaders

(in Isometrie: Vorderansicht von links)

I

SB 110

Grundkörper 50 x 40 x 20

Nut 20 x 20 x 20, rechts, 10 von unten



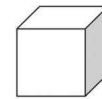
Übung 2

Drehe den Körper im Kopf nach rechts und notiere die neuen Maße. Zeichne den neuen Körper.



Übung 3

Kippe den Körper im Kopf nach hinten und notiere die neuen Maße. Zeichne den neuen Körper.



Gesucht: Raumbild eines Quaders

(in Isometrie: Vorderansicht von links)

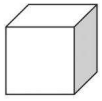
III

SB 112

Grundkörper 80 x 70 x 60

Teilstufe 60 x 50 x 40, rechts oben vorne

Nut 40 x 40 x 60, unten mittig



Gesucht: Raumbild eines Quaders

(in Isometrie: Vorderansicht von links)

IV

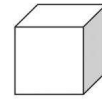
SB 113

Grundkörper 80 x 100 x 70

Abschrägung 40 x 50 x 70, rechts unten

Teilnut 45 x 40 x 20, unten links,
20 von vorne

Durchbruch 80 x 50 x 50, 40 von unten,
10 von vorne



Gesucht: Raumbild eines Quaders

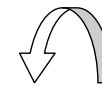
(in Isometrie: Vorderansicht von links)

I

SB 115

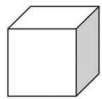
Grundkörper 60 x 70 x 50

Abschrägung 50 x 50 x 50, rechts oben



Übung 2

Kippe den Körper im Kopf nach links und notiere die neuen Maße. Zeichne den neuen Körper.



Gesucht: Raumbild eines Quaders

(in Isometrie: Vorderansicht von rechts)

IV

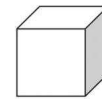
SB 114

Grundkörper 75 x 105 x 45

Durchbruch 45 x 45 x 45, vorne, 20 von oben,
15 von rechts

Teilstufe 30 x 85 x 35, links oben vorne

Abschrägung 40 x 105 x 45, links oben



Gesucht: Raumbild eines Quaders

(in Isometrie: Vorderansicht von links)

I

SB 116

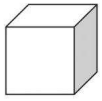
Grundkörper 40 x 70 x 100

Abschrägung 40 x 20 x 100, vorne oben



Übung 2

Drehe den Körper im Kopf nach rechts und notiere die neuen Maße. Zeichne den neuen Körper.



Gesucht: Raumbild eines Quaders

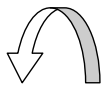
(in Isometrie: Vorderansicht von links)

I

SB 117

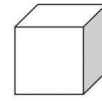
Grundkörper 90 x 30 x 70

Abschrägung 90 x 25 x 30, hinten unten



Übung 2

Kippe den Körper im Kopf nach links und notiere die neuen Maße. Zeichne den neuen Körper.



Gesucht: Raumbild eines Quaders

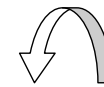
(in Isometrie: Vorderansicht von links)

I

SB 119

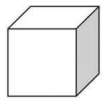
Grundkörper 100 x 60 x 60

Durchbruch 30 x 50 x 60, vorne mittig



Übung 2

Kippe den Körper im Kopf nach links und notiere die neuen Maße. Zeichne den neuen Körper.



Gesucht: Raumbild eines Quaders

(in Isometrie: Vorderansicht von links)

I

SB 118

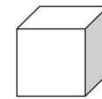
Grundkörper 50 x 60 x 70

Abschrägung 20 x 40 x 70, links unten



Übung 2

Drehe den Körper im Kopf nach rechts und notiere die neuen Maße. Zeichne den neuen Körper.



Gesucht: Raumbild eines Quaders

(in Isometrie: Vorderansicht von links)

I

SB 120

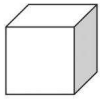
Grundkörper 80 x 40 x 100

Durchbruch 30 x 40 x 70, 10 von vorne,
20 von links



Übung 2

Drehe den Körper im Kopf nach rechts und notiere die neuen Maße. Zeichne den neuen Körper.



Gesucht: Raumbild eines Quaders

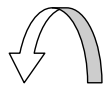
(in Isometrie: Vorderansicht von links)

I

SB 121

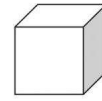
Grundkörper 100 x 40 x 60

Durchbruch 100 x 30 x 50, rechts mittig



Übung 2

Kippe den Körper im Kopf nach links und notiere die neuen Maße. Zeichne den neuen Körper.



Gesucht: Raumbild eines Quaders

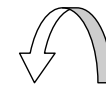
(in Isometrie: Vorderansicht von links)

I

SB 123

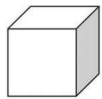
Grundkörper 100 x 60 x 60

Teilnut 60 x 50 x 40, oben, vorne, 10 von links



Übung 2

Kippe den Körper im Kopf nach links und notiere die neuen Maße. Zeichne den neuen Körper.



Gesucht: Raumbild eines Quaders

(in Isometrie: Vorderansicht von links)

I

SB 122

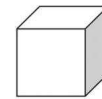
Grundkörper 10 x 80 x 100

Durchbruch 10 x 20 x 60, 20 von unten,
10 von vorn



Übung 2

Drehe den Körper im Kopf nach rechts und notiere die neuen Maße. Zeichne den neuen Körper.



Gesucht: Raumbild eines Quaders

(in Isometrie: Vorderansicht von links)

I

SB 124

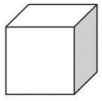
Grundkörper 85 x 65 x 70

Teilstufe 70 x 10 x 60, oben links vorne



Übung 2

Drehe den Körper im Kopf nach rechts und notiere die neuen Maße. Zeichne den neuen Körper.



Gesucht: Raumbild eines Quaders

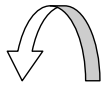
(in Isometrie: Vorderansicht von links)

I

SB 125

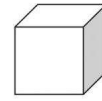
Grundkörper 70 x 50 x 90

Teilabschrägung 30 x 40 x 20, links vorne unten



Übung 2

Kippe den Körper im Kopf nach links und notiere die neuen Maße. Zeichne den neuen Körper.



Gesucht: Raumbild eines Quaders

(in Isometrie: Vorderansicht von links)

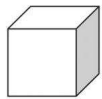
III

SB 127

Grundkörper 60 x 100 x 80

Nut 60 x 40 x 40, oben mittig

Stufe 30 x 30 x 80, oben rechts



Gesucht: Raumbild eines Quaders

(in Isometrie: Vorderansicht von links)

I

SB 126

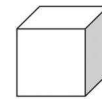
Grundkörper 95 x 60 x 70

Teildurchbruch 70 x 20 x 60, vorne, 10 von links, 10 von oben



Übung 2

Drehe den Körper im Kopf nach links und notiere die neuen Maße. Zeichne den neuen Körper.



Gesucht: Raumbild eines Quaders

(in Isometrie: Vorderansicht von links)

IV

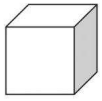
SB 128

Grundkörper 80 x 50 x 100

Durchbruch 70 x 50 x 90, oben mittig

Teildurchbruch 70 x 20 x 5, vorne, 5 von links, 5 von unten

Nut 80 x 25 x 90, oben mittig



Gesucht: Raumbild eines Quaders

(in Isometrie: Vorderansicht von links)

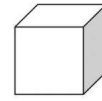
III

SB 129

Grundkörper 60 x 90 x 110

Durchbruch 60 x 30 x 50, mittig rechts

Teilstufe 20 x 60 x 90, hinten oben rechts



Gesucht: Raumbild eines Quaders

(in Isometrie: Vorderansicht von **rechts**)

II

SB 131

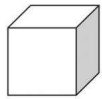
Grundkörper 120 x 80 x 60

Teilstufe 40 x 40 x 30, rechts oben vorne

Abschrägung 80 x 40 x 60, links oben

Nut 60 x 40 x 60, unten, 10 von links

Durchbruch 30 x 20 x 60, 10 von unten, 10 von rechts



Gesucht: Raumbild eines Quaders

(in Isometrie: Vorderansicht von links)

II

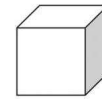
SB 130

Grundkörper 60 x 70 x 40

Stufe 40 x 20 x 40, links oben

Abschrägung 20 x 60 x 40, rechts oben

Nut 20 x 40 x 40, unten, 10 von links



Gesucht: Raumbild eines Quaders

(in Isometrie: Vorderansicht von links)

II

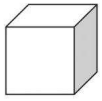
SB 132

Grundkörper 80 x 60 x 60

Abschrägungen 30 x 30 x 60, rechts oben UND unten

Durchbruch 20 x 20 x 60, 20 von unten,
30 von rechts

Stufe 20 x 60 x 30, links vorne



Gesucht: Raumbild eines Quaders

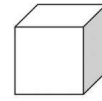
(in Isometrie: Vorderansicht von links)

III
SB 133

Grundkörper 70 x 50 x 90

Stufe 50 x 50 x 50, hinten links

Nut 70 x 20 x 40, oben, 40 von hinten



Gesucht: Raumbild eines Quaders

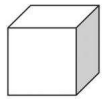
(in Isometrie: Vorderansicht von links)

III
SB 135

Grundkörper 60 x 80 x 60

Stufe 20 x 80 x 20, vorne rechts

Abschrägung 50 x 40 x 60, oben rechts



Gesucht: Raumbild eines Quaders

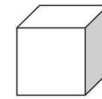
(in Isometrie: Vorderansicht von links)

III
SB 134

Grundkörper 100 x 70 x 90

Abschrägung 80 x 70 x 40, vorne rechts

Durchbruch 100 x 40 x 60, 20 von unten,
10 von vorne



Gesucht: Raumbild eines Quaders

(in Isometrie: Vorderansicht von links)

IV
SB 136

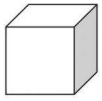
Grundkörper 80 x 80 x 100

Nut 20 x 80 x 40, mittig vorne

Stufe 20 x 80 x 40, links vorne

Abschrägung 80 x 40 x 60, vorne oben

Durchbruch 20 x 40 x 100, 10 von rechts,
10 von oben



Gesucht: Raumbild eines Quaders
„Haus“

(in Isometrie: Vorderansicht von links)

IV

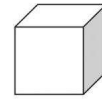
SB 137

Grundkörper 80 x 80 x 100

Stufe 20 x 80 x 60, rechts vorne

Abschrägung 40 x 30 x 100, oben rechts

Abschrägung 40 x 30 x 100, oben links



Gesucht: Raumbild eines Quaders

(in Isometrie: Vorderansicht von links)

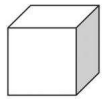
III

SB 139

Grundkörper 80 x 60 x 70

Nut 30 x 20 x 70, oben, 10 von links

Stufe 60 x 60 x 30, vorne rechts



Gesucht: Raumbild eines Quaders
„Moderne Schule“

(in Isometrie: Vorderansicht von **rechts**)

IV

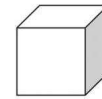
SB 138

Grundkörper 100 x 70 x 100

Nut 40 x 70 x 60, vorne mittig

Teilstufe 30 x 40 x 60, oben vorne rechts

Abschrägung 100 x 30 x 40, hinten oben



Gesucht: Raumbild eines Quaders

(in Isometrie: Vorderansicht von **rechts**)

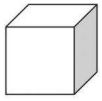
III

SB 140

Grundkörper 100 x 80 x 50

Teilabschrägung 70 x 40 x 40, vorne oben links

Stufe 70 x 80 x 40, vorne rechts



Gesucht: Raumbild eines Quaders

(in Isometrie: Vorderansicht von links)

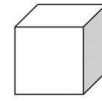
II

SB 145

Grundkörper 70 x 50 x 90

Stufe 50 x 50 x 40, hinten links

Nut 70 x 20 x 40, oben,
40 von hinten



Gesucht: Raumbild eines Quaders

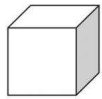
(in Isometrie: Vorderansicht von links)

I

SB 147

Grundkörper 80 x 40 x 50

Nut 80 x 25 x 30, vorne, 10 von unten



Gesucht: Raumbild eines Quaders

(in Isometrie: Vorderansicht von links)

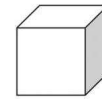
II+

SB 146

Grundkörper 90 x 80 x 70

Nut 10 x 80 x 50, links, 10 von vorne

Durchbruch 70 x 60 x 70, mittig
(von vorne nach
hinten, siehe Tiefe!)



Gesucht: Raumbild eines Quaders

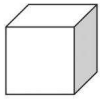
(in Isometrie: Vorderansicht von links)

I

SB 148

Grundkörper 65 x 30 x 45

Nut 45 x 20 x 45, unten mittig



Gesucht: Raumbild eines Quaders

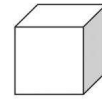
(in Isometrie: Vorderansicht von links)

I

SB 149

Grundkörper 35 x 60 x 50

Stufe 15 x 60 x 30, hinten links



Gesucht: Raumbild eines Quaders

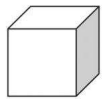
(in Isometrie: Vorderansicht von links)

I

SB 151

Grundkörper 60 x 35 x 50

Stufe 60 x 15 x 30, vorne unten



Gesucht: Raumbild eines Quaders

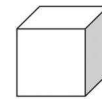
(in Isometrie: Vorderansicht von links)

I

SB 150

Grundkörper 55 x 20 x 70

Stufe 55 x 10 x 40, hinten oben



Gesucht: Raumbild eines Quaders

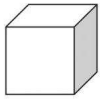
(in Isometrie: Vorderansicht von links)

I

SB 152

Grundkörper 60 x 30 x 50

Nut 40 x 30 x 20, links, 10 von vorne



Gesucht: Raumbild eines Quaders

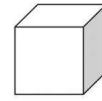
(in Isometrie: Vorderansicht von links)

IV

SB 153

Grundkörper 70 x 40 x 60

Nut	15 x 20 x 60,	oben, 10 von rechts
Nut	70 x 35 x 20	unten, 5 von vorne
Abschrägung	40 x 40 x 30	vorne links



Gesucht: Raumbild eines Quaders

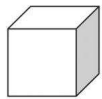
(in Isometrie: Vorderansicht von links)

IV

SB 155

Grundkörper 50 x 120 x 40

Nut	15 x 40 x 40,	unten, 5 von links
Durchbruch	25 x 120 x 10	5 von vorne, 15 v. links
Abschrägung	50 x 20 x 30	vorne oben



Gesucht: Raumbild eines Quaders

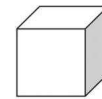
(in Isometrie: Vorderansicht von links)

IV

SB 154

Grundkörper 60 x 65 x 80

Abschrägung	60 x 35 x 45	vorne oben
Teilstufe	40 x 35 x 60	hinten rechts oben
Nut	10 x 40 x 80	unten, 10 von links



Gesucht: Raumbild eines Quaders

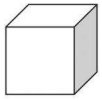
(in Isometrie: Vorderansicht von links)

IV

SB 156

Grundkörper 50 x 70 x 60

Teilnut	30 x 60 x 50	vorne unten, 10 v. links
Stufe	50 x 20 x 40	vorne oben
Abschrägung	35 x 35 x 60	rechts oben



Gesucht: Raumbild eines Quaders

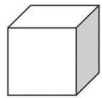
(in Isometrie: Vorderansicht von links)

IV

SB 157

Grundkörper 60 x 100 x 60

Nut	20 x 100 x 40,	rechts mittig
Nut	20 x 100 x 40	links mittig
Durchbruch	20 x 50 x 60	vorne, 10 von oben, 20 von links



Gesucht: Raumbild eines Quaders

(in Isometrie: Vorderansicht von links)

IV

SB 158

Grundkörper 80 x 100 x 50

Abschrägung	80 x 40 x 40	hinten oben
Stufe	20 x 100 x 10	vorne links
Stufe	15 x 100 x 10	vorne rechts
Nut	40 x 60 x 50	unten mittig