

1. Texterfassung: Die St. Leonhardsquelle

Zeit: 10 Minuten
Anforderungen: Klasse 7 = 800 Anschläge;
Klasse 8 = 1.000 Anschläge;
Klasse 9 = 1.400 Anschläge

Beim Zehnfingertastschreiben schreibe ich mit .. Fingern, sehe dabei auf meine Finger sondern konzentriere mich voll auf die Um die Textstelle nicht zu verlieren, verwende ich entweder einen oder ein

Hauschronik. Oft werden wir gefragt warum wir unsere Gaststätte	68
„zum Baodwirt“ genannt haben. Dieser Name bezieht sich auf die von	73
1877 bis 1925 auf diesem Anwesen betriebene Gaststätte mit	62
Heilbädern. Zur damaligen Zeit wurde bereits die heilende Wirkung	71
der St. Leonhardsquelle erkannt und geschätzt. 1925 kaufte	62
Engelbert Zanker das Anwesen. Bis 1962 führten Tochter und	65
Schwiegersohn, Maria und Anton Fürst, das Anwesen als	64
Ausflugsgaststätte. Nach Jahren der Stilllegung wurde die	63
Gaststätte von Tochter und Schwiegersohn, Roswitha und Michael	69
Schweinsteiger, 1974 wieder eröffnet. 1985 wurde das Gästehaus	66
dazu gebaut. Seit 2000 führen die Söhne Michael und Robert	64
Schweinsteiger den Betrieb. Die St. Leonhardsquelle war auch schon	73
zur Römerzeit bekannt. Der markante Steinsockel, durch den das	67
silberklare Wasser plätschert, stammt aus der Römerzeit. Das	65
Wasser färbte durch seine Eisen- und Mineralverbindungen den Stein	72
rot. Die Legende der St. Leonhardsquelle führt zurück ins Jahr	69
1734. Der aus der Nähe von Rosenheim stammende Christoph Riele	69
flehte den himmlischen Helfer St. Leonhard an, ihn von seinem	66
Leiden zu erlösen. St. Leonhard hatte ein Einsehen mit dem frommen	72
Mann und erschien ihm im Traum: „...Beim Leonhadskircherl am	68
Hochufer des Inn soll er einen Brunnen graben und das Wasser	66
trinken, dann werde er geheilt“. Der gläubige Mann ging an die	67
besagte Stelle, und wirklich: „...Da ging Sand und Gris von ihm	71
und er wurde wieder gesund“. Soweit die Anekdote über die	62
Wiederentdeckung des Leonhardsbrunnens. Auch unter dem Ortsnamen	70
„Pfunzen“ können sich viele nichts vorstellen. Dieser Name stammt	72
aus der Römerzeit, vom lateinischen Pons Aeni, der „Brücke über	70
den Inn“, die damals die Verbindung zu Langenpfunzen herstellte.	70
Wie Sie den Schautafeln in unserem Lokal entnehmen können wurden	70
am Dobler-Graben Funde aus der Stein- und Römerzeit entdeckt.	71
Diese Funde sind im Heimatmuseum in Rosenheim und im Deutschen	69
Museum in München ausgestellt. Wir wünschen Ihnen einen schönen	69
und erholsamen Aufenthalt! (Quelle:	42
http://www.baodwirt.de/Chronik)	38

(2085 Zeichen)

Name? ..

Datum? ..

Klasse? ..

Schule? ..

2. Internetrecherche: Die St. Leonhardsquelle

1. Finde im Internet die Homepage der Waldgastwirtschaft „Zum Baodwirt“ im Mühlthalweg 45 in 83071 Bad Leonhardspfunzen.

2. Notiere die Anschrift, die Telefonnummer und E-Mail:

.....

3. Wie viele Plätze gibt es

a) im Lokal ..

b) auf der Terrasse ..

c) im Nebenzimmer? ..

4. Wann ist die Gaststätte geschlossen, also Ruhetag? ..

5. Öffne den Anfahrtsplan und speichere ihn im Ordner „Radtour St. Leonhardsquelle“

6. Lass dir die Lage im Google-Maps anzeigen und kopiere einen Scree-Shot nach Word!

(<http://www.take-a-screenshot.org/de/>)

7. Finde die St.-Leonhardsquelle in Google-Maps!

a) anzeigen

b) Route berechnen von der Schule per Fahrrad

c) wie weit ist die Strecke für

ein Fahrrad? ..

für ein Auto? ..

d) wie lange fährt

ein Fahrrad? ..

ein Auto? ..

.....
Datum, Unterschrift

Viel Erfolg!

3. Textgestaltung: „Radltour zur St. Leonhardsquelle“

Du willst mit deinen Freunden am kommenden sonnigen Wochenende eine Radltour zur St.-Leonhards-Quelle unternehmen. Deshalb lädst du deine Freunde ein und informierst sie zugleich. Als Einladung wählst du einen Flyer, der alle Infos enthält.

Der Flyer soll ..

- I .. 2 gefaltet werden, und zwar im Zick-Zack. (Spalten oder Tabelle)
- II .. auf der Vorderseite ein Bild der Leonhardquelle zeigen
<http://upload.wikimedia.org/wikipedia/commons/1/18/StLeonhardsQuelleUndKapelle.jpg>
- III .. ein Programm auflisten, in dem der Beginn, der Start, das Ziel, die Rastmöglichkeit Baodwirt, sowie mind. die Reisedaten über Entfernung, Fahrzeit, Beginn und Ende enthalten sind.
- IV .. den Weg von der Schule zur Quelle in wörtlicher Erklärung enthalten.
- V .. den Weg als Bild / Screen-Shot zeigen.
- VI .. die Kontaktdaten zum Tourenführer - du selbst - mit Handynummer enthalten.
- VII .. zwei Sammelpunkte im Falle des sich Verlierens aufzeigen.
- VIII .. etwas über die Geschichte der Quelle erzählen http://de.wikipedia.org/wiki/St_Leonhards
- IX .. erklären, was Tiefenwasser ist.
- X alle Quellen- und Gestalterangabe enthalten.
- XI .. eine Packliste enthalten, damit kein Mitradler etwas wichtiges vergisst.
- XII .. als Prototyp gefaltet und geschnitten rechtzeitig vorgelegt werden.
- XIII Beispiellösung:

<p>Geschichte der Quelle</p> <p>Bad Leonhardsprunzen ist der Überlieferung nach als alter Kneippplatz der Keltin und Keltin bekannt. Zur Zeit der Römer hieß es sich aus dem Namen der Wasser-gottes Fontalis, den Schutzheiligen dieser Gegend, die Ortsbezeichnung "Fons" ab. Der Sage nach wurde die St. Leonhardsquelle im Jahre 1734 von Christoph Bial wiederentdeckt, nachdem ihm der Heilige Leonhard in Traum erschienen war. In Mönch der Tradition kann das Wasser besterlei von Hand abgefüllt werden. Zahlreiche Viehweiden mit Tausenden Blüthen die Sage und die überlieferte Heilkraft des Wassers. Seltener wurden auf denselben Quellgebiet drei weitere Tiefenquellen erschlossen. Im Jahr 1999 die Mundquelle, 2003 die Lichtquelle und die Sonnenquelle. Im Jahr 2006 wurde ein weiterer Standort in Rappolding im Odenwald in Betrieb genommen. An diesem zwischen Quellen entspringen zwei Quellen: Die Quelle St. Georg, dieses Wasser enthält kein Eisen - und eine Naturschutz-Quelle. Dabei soll es sich um einen Überrest aus dem Urmeer handeln, der sich unter einer 200 m dicken Mergelschicht über die Jahrmillionen erhalten hat. Geologisch mit dem Mineralwasser aus der benachbarten Quelle St. Georg, ergibt sich daraus das Tiefenwasser Aspekt. Dieses Gewässer enthält das natürliche Salz aus der Urmeersalze.</p> <p>Projekt Baodwirt_L</p>	<p>Was ist Tiefenwasser?</p> <p>Die Tiefenwasser stammen ausschließlich aus natürlichen, unterirdischen und vor Oberflächenwassereinträgen geschützten Reservieren und werden direkt an den Quellorten abgefüllt. Es erfolgt lediglich ein gesamtlich vorgeschriebener natürlicher Filterungsprozess das überschüssigen Eisens. Das grabstoffliche, im Wasser gelöste Eisen wird mit geringem Luftsaurestoff oxidiert, die ausgeflockten, braunen Eisenflocken werden dann über Quarzsand ausgefiltert. Das Wasser wird zudem in Leichtglasflaschen abgefüllt, die keine Fremdstoffe an das Wasser abgeben.</p> <p>Quellen</p> <p>http://de.wikipedia.org/wiki/St_Leonhards http://commons.wikimedia.org/wiki/File:StLeonhardsQuelleUndKapelle.jpg</p>	<p>Radltour zur St. Leonhardsquelle</p>  <p>Klasse 9 ABC Mittelschule St. Georg</p>
<p>Programm</p> <p>Beginn: 8 Uhr Start: Schulhof Raus ca. 10:30 Uhr beim Baodwirt Ein: Bad Leonhardsprunzen Entfernung: ca. 15,7 km Fahrzeit: ca. 1,5 Stunden Ende der Radtour: 13 Uhr</p> <p>Weg</p> <p>Durch die Stadt Bad Albing und über die Kolonnen Landstraße nach Kolonnen. Von Kolonnen auf dem Radweg entlang der Mergel und den Mangelfallen nach Rosenheim bis zur Zehnstraße. Nach der Zehnstraße auf dem Radweg ca. 3 km bis zum Schild „Baodwirt“, dort rechts auf und links ca. 500 m zur Quelle.</p> <p>Karte</p>  <p>Projekt Baodwirt_L</p>	<p>Tourenführer</p> <p>Max Masterradler Handy/Nr.: 0123 4567890</p> <p>Sammelpunkte</p> <p>Hinfahrt: Baodwirt Rückfahrt: Schulhof</p>	<p>Packliste</p> <p>Badedecke Badehandtuch Badehose Fotografier Handy Kartenspiel/e Notfallmedikament/e Passerlino/e Pflaster Puli Radfahrrucksack Radfahrschutzbrille Radfahrschutzhelm Radfahrschutzhelm Regenjacke Schirmmütze Sonnenbrille Taschengeld für Eis/Kaffee Telefonnummer Eltern Telefonnummer Tourenführer Trinkwasser</p>

Viel Erfolg!

4. Tabellenkalkulation: „Der St. Leonhards-Radler“

Du planst eine Radltour zur St.-Leonhards-Quelle und deine Freunde wollen dem Schnellsten und dem Langsamsten Radler einen Preis überreichen. Deshalb berechnest du in Excel die maximal und minimal erreichte Radlergeschwindigkeit.

Erstelle folgendes Excel-Arbeitsblatt und ..

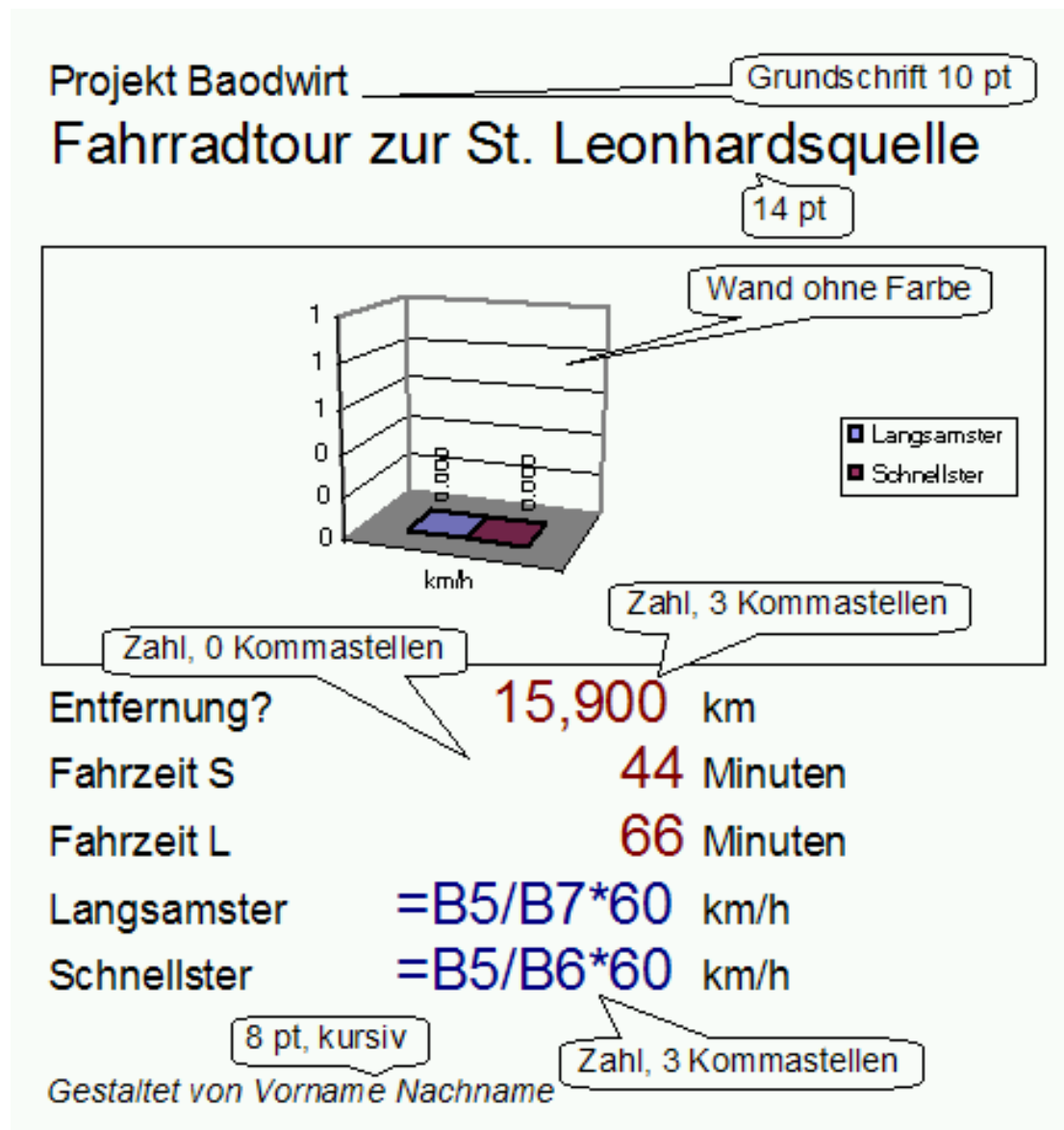
.. finde die nötigen Formeln heraus

.. formatiere die vorgegebenen Zellen in Dunkelblau und Dunkelrot

.. füge zum Vergleich des schnellsten mit dem langsamsten Radlfahrer ein Säulendiagramm ein

.. übernimm die Bezeichnungen der Ein- und Ausgabefelder

.. notiere die Gestalterangabe



Viel Erfolg!

5. Korrespondenz: St.-Leonhards-Quelle

Du willst mit deinen Freunden ein Wochenende mit dem Fahrrad verbringen. Als Ziel wählt ihr die St.-Leonhards-Quelle in Stephanskirchen aus. Ihr wollt den Abend gesellig verbringen und plant deswegen eine Übernachtung mit Frühstück ein. Du hast in der Gruppe den Auftrag, wegen der Zimmer beim nahegelegenen Wirt anzufragen.

Erstelle folgenden Brief

Absender: *Du selbst*

Empfänger: *Waldgasthof "Zum Baodwirt"; Schweinsteiger GbR; Mühlthalweg 45; 83071 Bad Leonhardspfunzen; Telefon 08031 2743-0; Telefax 08031 2743-14; e-Mail info@baodwirt.de; Gaststätte Montag + Dienstag Ruhetag; Öffnungszeiten Dezember - März; Mittwoch - Freitag ab 15 Uhr; Samstag und Sonntag ab 10 Uhr*

Betreff: *Saal für Freundetreffen; Zimmer mit Frühstück*

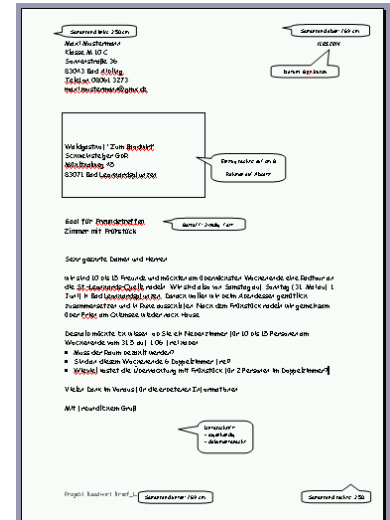
Anrede: *Standardanrede*

Brieftext: *du erzählst, dass du mit 10 bis 15 Freunden eine Radltour an die St.-Leonhards-Quelle unternimmst. Ihr wollt also am Samstag auf Sonntag (Datum in 2 Wochen) in Bad Leonhardspfunzen sein. Nach der Radltour plant ihr gemütlich Abendessen und danach in Ruhe zu übernachten. Nach einem späten Frühstück radelt ihr gemeinsam über Prien am Chiemsee wieder nach Hause.*

Deshalb fragst an, ob es ein Nebenzimmer für 10 bis 15 Personen gibt und möchtest wissen, ob es am Wochenende vom [in 14 Tagen] frei ist. Du weißt nicht, ob der Raum bezahlt werden muss oder ob am gleichen Wochenende auch 6 Doppelzimmer frei sind. Du möchtest weiterhin erfahren, was die Übernachtung mit Frühstück für 2 Personen im Doppelzimmer kostet. Du bedankst dich im Voraus für die erbetenen Informationen. [Aufzählung]

Grußformel: *standard*

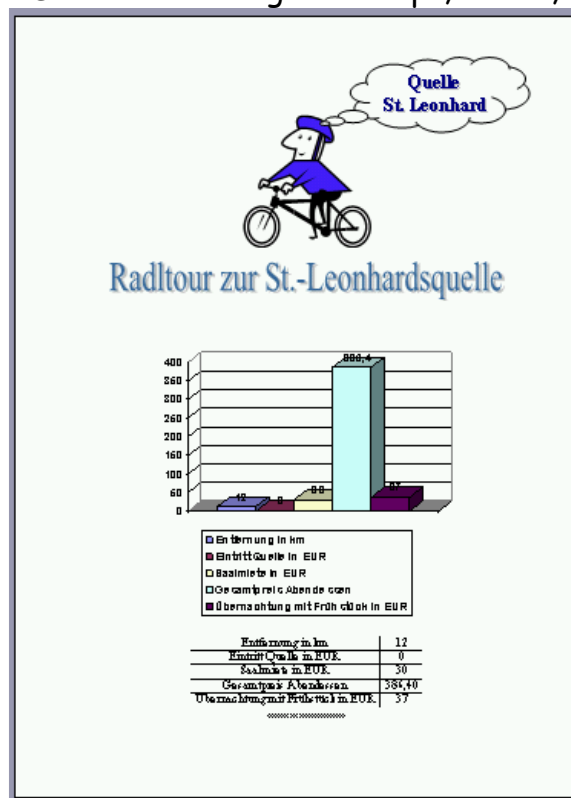
Viel Erfolg!



6. Diagramm in MS Word

Als nach Tagen Zeit ist, über die Radltour nachzudenken, entscheidest Du dich, ein Diagramm über die Kosten anzufertigen. Mit dem Textbearbeitungsprogramm erstellst du ein Säulendiagramm, das die Gesamt- und Teilkosten sowie die Kosten für den Einzelnen Radlfahrer darstellt. In einer kleinen Tabelle stellst du die dazugehörige Rechnung auf. Die Übernachtungskosten liegen bei 37 EUR pro Person, die Saalmiete lag bei pauschal 30 EUR (Reinigungsgebühr), der Eintritt in die Leonhardskapelle war frei, die Besichtigung der Firma Leonhardsquelle kostete 2 EUR. Die Entfernung in km von der Schule zur Quelle berechnest du mit Google-Maps.

- Ein Bild von der Radltour oder eine ClipArt sowie die AutoForm „Legende Wolke“ mit dem Text „Quelle St. Leonhard“ schmücken das Blatt.
- Die Überschrift „Radltour zur St.-Leonhardsquelle“ in WordArt, 36 pt, schattiert, zieht den Blick auf sich.
- Darunter das Diagramm angepasst platzieren.
- Diagramm: keine Hintergrundfarbe, Werte anzeigen lassen, Legende unten, Rahmenlinie entfernen,
- Darunter die Tabelle ohne äußeren Rahmen mit 2 Spalten.
- Die Gestalterangabe in 6 pt, kursiv, zentriert, zeigt die Quelle auf.



Viel Spaß!